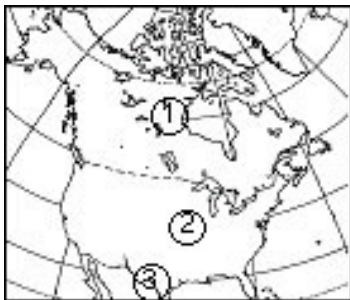


ใบงาน 1

เรื่อง ภูมิภาคในทวีปอเมริกาเหนือ

อเมริกาเหนือแบ่งตามสภาพสังคมวัฒนธรรม มี 2 ส่วน ได้แก่ แองโกลอเมริกาและละตินอเมริกา โดยถือเอาแม่น้ำริโอแกรนด์ (Rio Grande) เป็นพรมแดนระหว่างเม็กซิโกกับสหรัฐอเมริกาเป็นแนวแบ่ง

1. แองโกลอเมริกา (Anglo-America) คือ ดินแดนที่อยู่ทางตอนเหนือของแม่น้ำริโอแกรนด์ ประกอบด้วยประเทศสหรัฐอเมริกาและแคนาดา ประชากรส่วนใหญ่เป็นผู้สืบเชื้อสายมาจากชาวอังกฤษ



จากแผนที่แสดงภูมิภาคที่เป็นแองโกลอเมริกา

หมายเลข 1 คือ ประเทศ

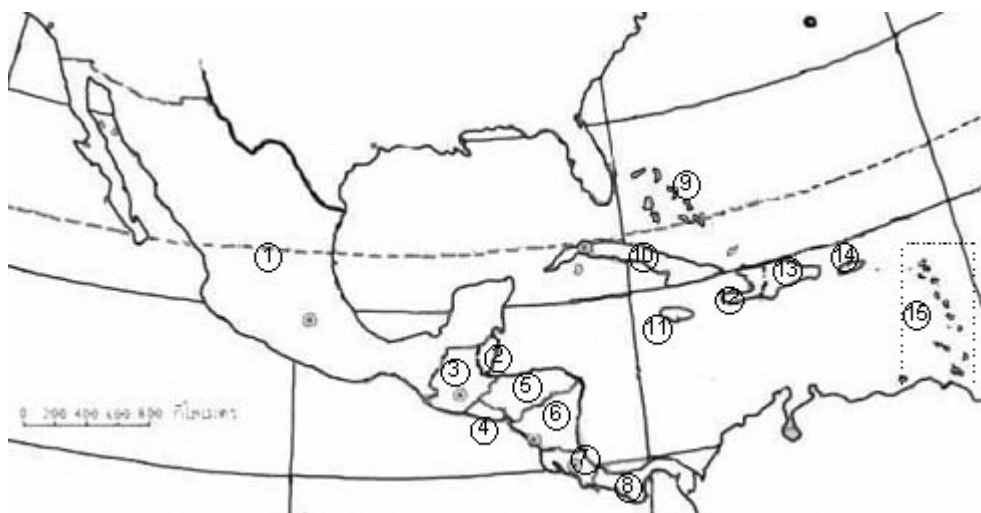
หมายเลข 2 คือ ประเทศ

หมายเลข 3 คือ แม่น้ำ

2. ละตินอเมริกา (Latin-America) คือ ดินแดนของประเทศต่างๆ ที่อยู่ทางตอนใต้ของแม่น้ำริโอแกรนด์ ประชากรส่วนใหญ่สืบเชื้อสายและวัฒนธรรมมาจากสเปนและโปรตุเกส ประกอบด้วย

2.1 อเมริกากลาง หมายถึง ดินแดนที่อยู่ทางตอนใต้ของแม่น้ำริโอแกรนด์ ได้แก่ เม็กซิโก เบลีซ คอสตาริกา เอลซัลวาดอร์ กัวเตมาลา ฮอนดูรัส นิการากัว และปานามา

2.2 ประเทศที่ตั้งอยู่บนหมู่เกาะในทะเลแคริบเบียน ได้แก่ บาฮามาส บาร์เบโดส คิวบา โดมินีกัน เกรเนดา เฮติ เจเมกา เปอร์โตริโก ตรินิแดดและโตเบโก แอนติกาและบาร์บูดา โดมินีกา กวาเดอลุป มาร์ตีนิก เนเธอร์แลนด์แอนทิลลีส เซนต์คิตส์และเนวิส เซนต์ลูเชีย เซนต์วินเซนต์และเกรนาดีนส์



จากแผนที่แสดงภูมิภาคที่เป็นละตินอเมริกา

มี 2 กลุ่ม

1. กลุ่มอเมริกากลาง ประกอบด้วย

หมายเลข 1 คือ -----

หมายเลข 2 คือ -----

หมายเลข 3 คือ -----

หมายเลข 4 คือ -----

หมายเลข 5 คือ -----

หมายเลข 6 คือ -----

หมายเลข 7 คือ -----

หมายเลข 8 คือ -----

2. กลุ่มประเทศในหมู่เกาะอินดีสตะวันตกที่สำคัญ

ประกอบด้วย

หมายเลข 9 คือ -----

หมายเลข 10 คือ -----

หมายเลข 11 คือ -----

หมายเลข 12 คือ -----

หมายเลข 13 คือ -----

หมายเลข 14 คือ -----

กลุ่มประเทศที่เหลือ อยู่ในหมายเลข 15

จงตอบคำถามต่อไปนี้ให้ถูกต้องสมบูรณ์

1. คำว่า “อเมริกา” มาจากชื่อของนักสำรวจ ชาวอิตาเลียน คือใคร

2. พรมแดนธรรมชาติ ที่แบ่งแ่ง โกลอเมริกาและละตินอเมริกา คือ

3. ช่องแคบที่คั่นระหว่างทวีปอเมริกาเหนือกับทวีปเอเชีย คือ

4. น่านน้ำที่อยู่รอบเกาะกรีนแลนด์ คือ

5. ส่วนแคบที่สุดของทวีปอเมริกาเหนือ คืออะไร

6. สหรัฐอเมริกาและแคนาดาจัดอยู่ในกลุ่มภูมิภาคใด

7. ละตินอเมริกา หมายถึงอะไร

8. คลองในทวีปอเมริกาที่ขุดเชื่อมมหาสมุทรแอตแลนติกและแปซิฟิก คือ

9. อเมริกากลาง หมายถึงอะไร

10. ภูมิภาคประเทศตอนกลางของแองโกลอเมริกาส่วนใหญ่มีลักษณะอย่างไร

11. เพราะเหตุใดที่ราบรอบอ่าวฮัดสันในทวีปอเมริกาเหนือมีประชากรอาศัยอยู่เบาบาง

12. มีทวีปใดบ้างที่ตั้งอยู่ในซีกโลกเหนือทั้งหมด

13. อเมริกาเหนือเป็นทวีปที่ตั้งอยู่ระหว่างน่านน้ำอะไร

14. เมื่อนักเรียนต้องการเดินทางจากประเทศไทยไปยังทวีปอเมริกาเหนือให้ใกล้ที่สุด จะต้องผ่านน่านน้ำอะไร

15. มีทวีปอะไรบ้างที่มีขนาดใหญ่กว่าทวีปอเมริกาเหนือ

16. ดินแดนส่วนใดของอเมริกาเหนือที่อยู่ใกล้ทวีปเอเชียมากที่สุด

17. ดินแดนใดที่ตั้งอยู่ทางเหนือสุดของทวีปอเมริกาเหนือ

18. ช่องแคบใดเป็นน่านน้ำที่คั่นทวีปอเมริกาเหนือกับทวีปเอเชีย

19. ประเทศที่อยู่ใต้สุดของทวีปอเมริกาเหนือ คือ

20. ภูมิภาคใดของทวีปอเมริกาเหนือ มีพื้นที่มากที่สุด

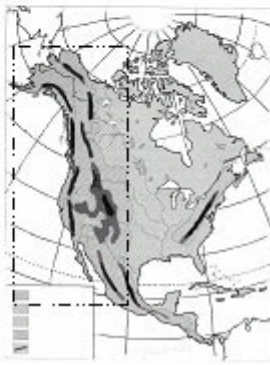
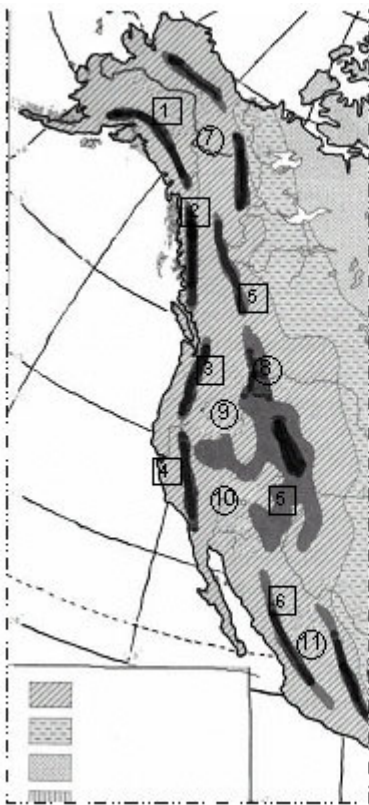
21. ดินแดนของประเทศในกลุ่มแองโกลอเมริกาเริ่มและสิ้นสุดที่ใด

22. ประเทศปานามาเป็นดินแดนจรดประเทศใดในทวีปอเมริกาใต้

23. อ่าวขนาดใหญ่ทางตอนเหนือของทวีปอเมริกาเหนือ คือ

24. เกาะที่สำคัญที่อยู่ในมหาสมุทรแอตแลนติกของอเมริกาเหนือ คือ

3) เขตเทือกเขาสูงภาคตะวันตก เป็นเขตเทือกเขาสูงที่สลับซับซ้อนกันหลายแนวที่เกิดจากการโค้งตัวของเปลือกโลกที่มีอายุน้อย จึงเป็นเขตที่มักเกิดปรากฏการณ์แผ่นดินไหว มีอาณาบริเวณตั้งแต่ตอนเหนือสุดของช่องแคบแบริงจนถึงประเทศปานามา ได้แก่ เทือกเขาอะแลสกา มียอดเขาสูงสุดในทวีปอเมริกาเหนือชื่อ ยอดเขาแมกคลินดีซ์ (6,190 เมตร) เทือกเขารอกกี เทือกเขาแคลสเกต เทือกเขาเซียร์ราเนวาดา เทือกเขาเซียร์รามาเดร และเทือกเขาโคสต์ระหว่างเทือกเขาสูงเหล่านี้มีที่ราบสูงระหว่างเทือกเขาที่สำคัญคือ ที่ราบสูงอะแลสกา ที่ราบสูงบริติชโคลัมเบีย ที่ราบสูงเกรตเบซิน ที่ราบสูงโคโลราโด และที่ราบสูงเม็กซิโก โดยเฉพาะที่ราบสูงโคโลราโด มีลักษณะภูมิประเทศที่เป็นโกรกธาร หุบเหวลึก มีน้ำผาสูงชัน ซึ่งเป็นผลมาจากการไหลของแม่น้ำโคโลราโด ทำให้เกิดการกัดเซาะดินและชั้นหิน เกิดเป็นภูมิประเทศที่สวยงาม ที่มีชื่อเสียงมากที่สุดคือ แกรนด์แคนยอน (Grand Canyon) ในมลรัฐแอริโซนา และมีอุทยานแห่งชาติที่มีชื่อเสียงมากคือ อุทยานแห่งชาติเยลโลสโตน เป็นอุทยานน้ำพุร้อนกีเซอร์ รวม 120 แห่ง



กิจกรรม จากแผนที่

: เทือกเขา

: ที่ราบสูงระหว่างเทือกเขา

หมายเลข 1 คือ.....

หมายเลข 2 คือ.....

หมายเลข 3 คือ.....

หมายเลข 4 คือ.....

หมายเลข 5 คือ.....

หมายเลข 6 คือ.....

หมายเลข 7 คือ.....

หมายเลข 8 คือ.....

หมายเลข 9 คือ.....

หมายเลข 10 คือ.....

หมายเลข 11 คือ.....

คำว่า“Grand Canyon” หมายถึงอะไร และมีความสัมพันธ์กับหมายเลขใด

.....

.....

.....

.....

ให้วิเคราะห์ว่าลักษณะภูมิประเทศทางตะวันตกมีอิทธิพลต่อภูมิอากาศในทวีปอเมริกา มากหรือน้อยเพียงใด

.....

.....

.....

4) เขตที่ราบภาคกลาง เป็นที่ราบกว้างใหญ่ มีอาณาเขตตั้งแต่มหาสมุทรอาร์กติกทางตอนเหนือลงมาจนถึงอ่าวเม็กซิโกทางตอนใต้ และระหว่างเทือกเขารอกกีกับเทือกเขาแอปพาเลเชียน ประกอบด้วยชั้นหินที่เกิดจากการโค้งตัวของเปลือกโลก ลักษณะโดยทั่วไปเป็นที่ราบลูกคลื่น คือ บริเวณที่สูงจะอยู่ตอนเหนือและเขตติดต่อกับเทือกเขารอกกี บริเวณตอนกลางเป็นที่ราบลุ่มแม่น้ำต่างๆ ประกอบด้วยเขตที่ราบ 6 เขต คือ

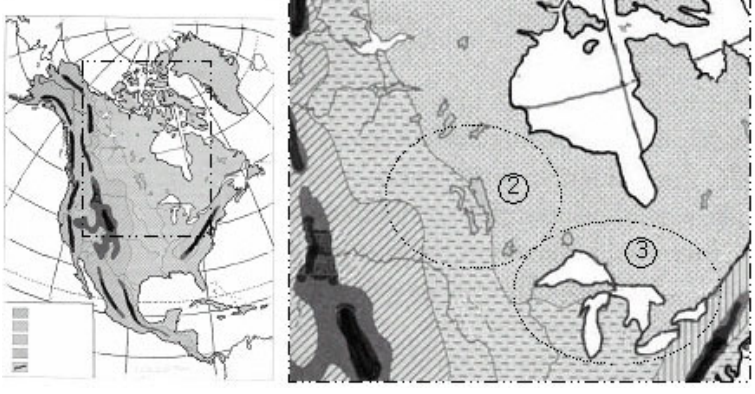
4.1 ที่ราบลุ่มแม่น้ำแมกเคนซี (Mackenzie Lowlands) อยู่ตอนเหนือสุดระหว่างเขตหินเก่าแคนาดากับเทือกเขาแมกคินลีย์ เป็นที่ราบลุ่มแม่น้ำแคบๆ มีประชากรอาศัยอยู่เบาบาง เนื่องจากมีอากาศหนาวเย็น

4.2 ที่ราบแพร์รีแคนาดา (Canadian Prairie) เป็นที่ราบใหญ่อยู่ทางภาคกลางของแคนาดา ได้แก่ บริเวณรัฐแมนิโทบา ซัสแคตเชวัน แอลเบอร์ตา เป็นเขตปลูกข้าวสาลีที่สำคัญแห่งหนึ่งของโลก

4.3 ที่ราบลุ่มทะเลสาบทั้ง 5 และลุ่มแม่น้ำเซนต์ลอเรนซ์ (Great Lakes and St.Lawrence) ทะเลสาบทั้ง 5 ได้แก่ ทะเลสาบซูพีเรีย (ทะเลสาบน้ำจืดที่ใหญ่ที่สุดในโลก) มิชิแกน ฮูรอน อีรี และออนแทรีโอ เป็นแหล่งน้ำที่มีอาณาเขตติดต่อกัน และระหว่างทะเลสาบอีรีกับออนแทรีโอมีน้ำตกขนาดใหญ่ ชื่อว่า น้ำตกไนแอการาและที่ชายฝั่งทะเลสาบออนแทรีโอ มีทางระบายซึ่งเป็นต้นกำเนิดของแม่น้ำเซนต์ลอเรนซ์ ไหลลงสู่มหาสมุทรแอตแลนติก เขตที่ราบรอบทะเลสาบทั้ง 5 และลุ่มแม่น้ำเซนต์ลอเรนซ์ มีดินที่เหมาะสมแก่การเพาะปลูก และเป็นบริเวณที่การขนส่งทางน้ำภายในทวีปสำคัญที่สุดในโลก จึงเป็นเขตที่มีประชากรอาศัยอยู่หนาแน่น

หมายเลข 1 คือ ที่ราบ
.....
มีความสำคัญทางเศรษฐกิจน้อย เพราะ
.....
หมายเลข 2 คือ ที่ราบ
.....
มีความสำคัญทางเศรษฐกิจ คือ
.....
หมายเลข 3 คือ ที่ราบ
.....
มีความสำคัญทางเศรษฐกิจ คือ
.....

กิจกรรม พิจารณาแผนที่
เติมข้อความให้ถูกต้อง



4.4 ที่ราบลุ่มแม่น้ำมิสซิสซิปปี-มิสซูรี (Mississippi-Missouri Plain) เป็นที่ราบที่เกิดจากแม่น้ำพัดเอาดินตะกอนมาทับถมเป็นบริเวณกว้าง เหมาะแก่การเพาะปลูก ได้แก่ แม่น้ำมิสซิสซิปปี ซึ่งมีความยาวที่สุดในอเมริกาเหนือ ยาว 3,779 กิโลเมตร ไหลลงสู่อ่าวเม็กซิโก และมีแม่น้ำสาขา คือ แม่น้ำมิสซูรี โอไฮโอ เทนเนสซี อาร์คันซอส์เป็นเขตที่มีประชากรอาศัยอยู่หนาแน่นแห่งหนึ่งของอเมริกาเหนือ

